









## Révision sur les changes

» BILLETS ET DEVICES						
	BILLETS			DEVICES		
	SMS	ACHAT	VENTE	SMS	ACHAT	VENTE
 1 Euro	1001	1.52	1.57	1163	1.5240	1.5626
 1 Dollar US	1002	1.19	1.28	1103	1.2234	1.2534
 1 Livre Sterling	1004	2.19	2.35	1443	2.2520	2.3100
 1 Dollar Canadien	1003	1.00	1.08	1123	1.0290	1.0530
 100 Yens	1006	1.07	1.17	1953	1.1119	1.1409
 100 Cour. suéd.	1007	15.85	17.45	1083	16.3500	16.7700
 100 Cour. norvég.	1009	18.85	20.65	1084	19.5400	20.0200
 100 Cour. dan.	1008	19.80	21.60	1085	20.4400	20.9600

1. Un touriste canadien, de passage en Suisse, achète à Lausanne €2'000.-. Combien de \$Can doit-il verser ?
2. Un restaurateur de Crissier a acheté pour NOK 750.- de saumon frais en Norvège. Quel montant son banquier va débiter pour le paiement de cette facture ?
3. Un frontalier achète à la Migros pour CHF 212.60. Il paie avec €150.- et la caissière lui rend CHF 12.40. Quel cours est pratiqué par la Migros ?
4. Une apprentie a acheté pour un voyage en Scandinavie SUK 4'000.- et DAK 4'000.-. A son retour elle donne tout ce qui lui reste à un ami norvégien contre un chèque de NOK 400.-. Combien a-t-elle dépensé en CHF pour son voyage ?
5. Un industriel américain a acheté à Prilly une machine valant CHF 22'300.-. Il souhaite payer avec un chèque libellé en \$. Quel montant doit-il inscrire sur le chèque ?
6. Un touriste anglais de passage en Suisse achète à Genève ¥ 150'000.-. Il paie avec un chèque de £ 800.-. La banque lui rend CHF 45.-. Quel est le cours de la £ utilisé ?
7. Avant de partir en vacances tu as changé €500.- et NOK 2'000.-. A ton retour il te reste € 30.- et NOK 300.-. Combien as-tu dépensé ?